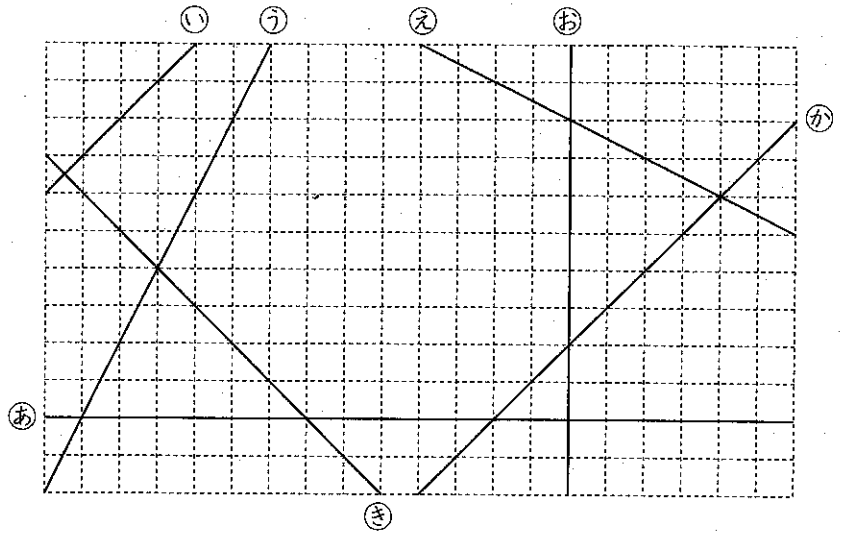


1 右の図を見て答えなさい。

(各10点×2)

(1) 直線⑥と垂直な直線はどれですか。


(2) 直線①と平行な直線はどれですか。



2 右の図は、長方形アイウエです。

(各10点×3)

(1) 辺アイと垂直な辺をすべて答えなさい。



(2) 辺アイと平行な辺を1つ答えなさい。

(3) 辺アエと平行な辺を1つ答えなさい。

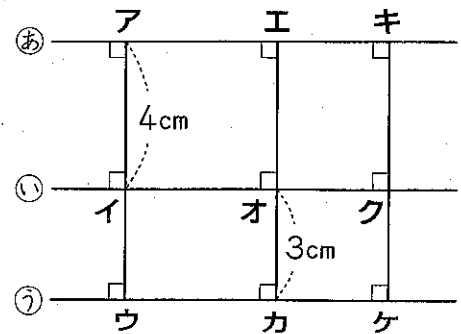
3 右の図で、㉔、㉕、㉖の直線は平行です。

(各10点×2)

(1) イウの長さは何cmですか。

 cm

(2) キケの長さは何cmですか。

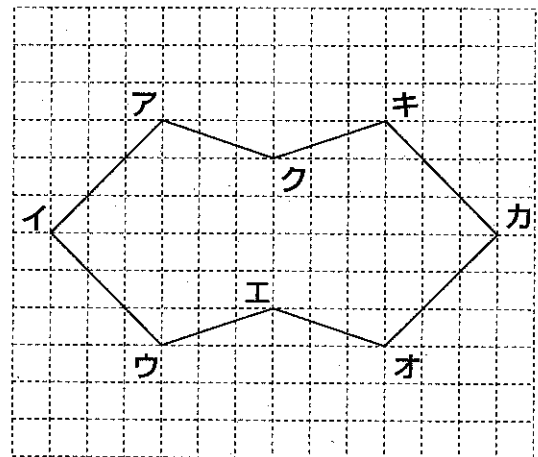
 cm


4 右のような図形があります。

(各10点×3)

(1) 直線アイと平行な直線を1つ答えなさい。

(2) 直線アイと垂直な直線を2つ答えなさい。




(3) 平行な直線の組は、全部で何組ありますか。

 組